

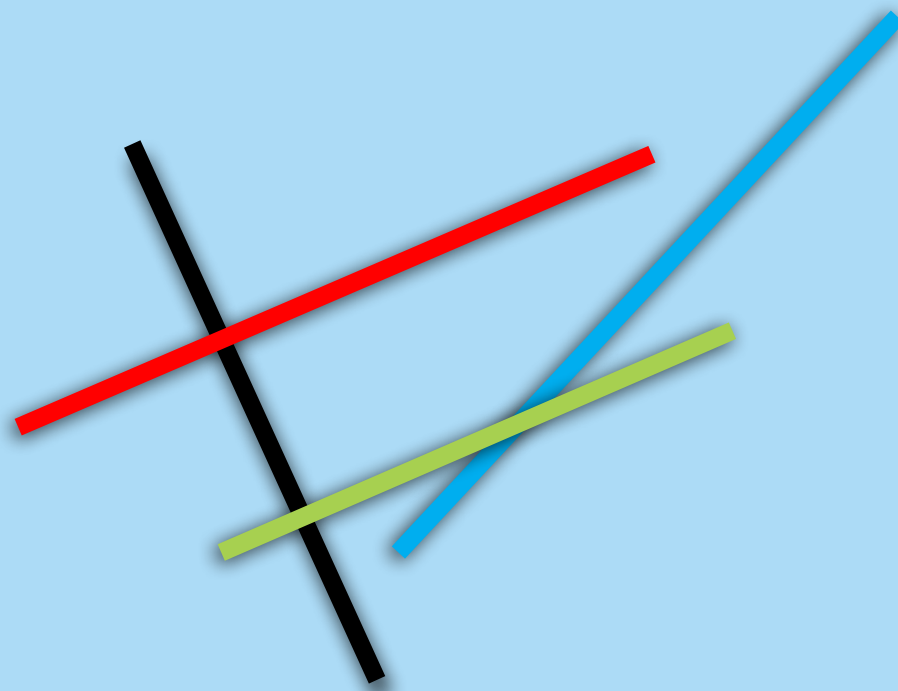


Jogging mathématique

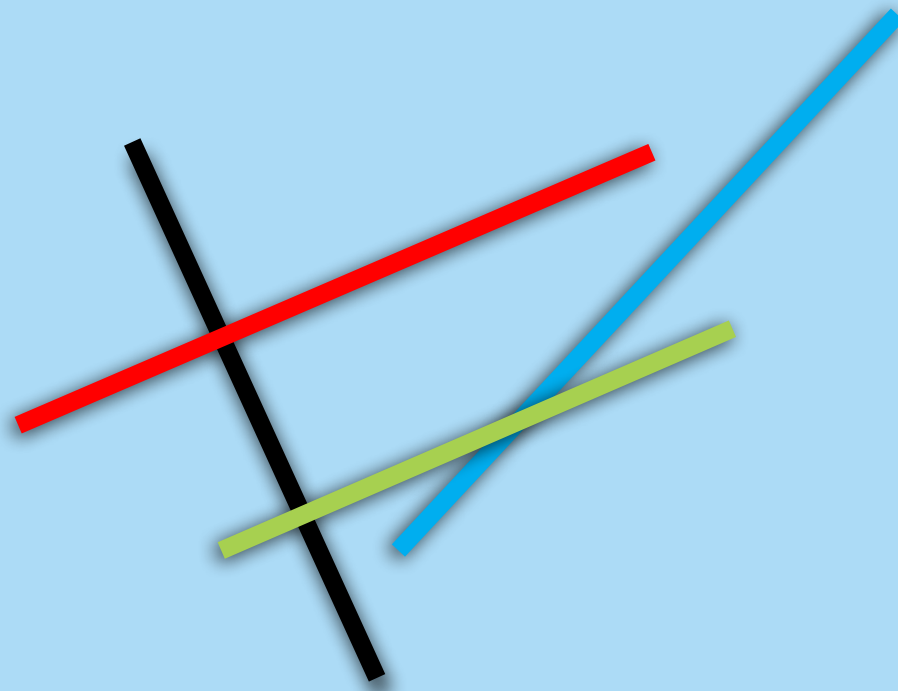
1. Quel nombre a **24** dizaines et **5** unités ?

2. Quelle est la position occupée par le chiffre **7** dans le nombre **9 702** ?


3. De quelle couleur est la droite qui est parallèle à la droite rouge ?



4. Quel est le nom de l'angle formé par la droite rouge et la droite noire ?



5. La droite rouge et la droite noire sont perpendiculaires.
Vrai ou faux ?



6. Complète la phrase suivante.
Un angle plus grand qu'un
angle droit est un angle

?

7. Trouve la différence.

$$14 - 9 = ?$$


8. Trouve la somme.

$$22 + 5 = ?$$

9. Trouve la somme.

$$9 + 1 + 8 = ?$$

10. Le petit rorqual mesure 8 mètres. Le rorqual commun mesure **21** mètres. Combien de mètres le rorqual commun mesure-t-il de plus que le petit rorqual ?



1. 245

2. les centaines

3. verte

4. angle droit

5. vrai

6. obtus

7. 5

8. 27

9. 18

10. 13 mètres