

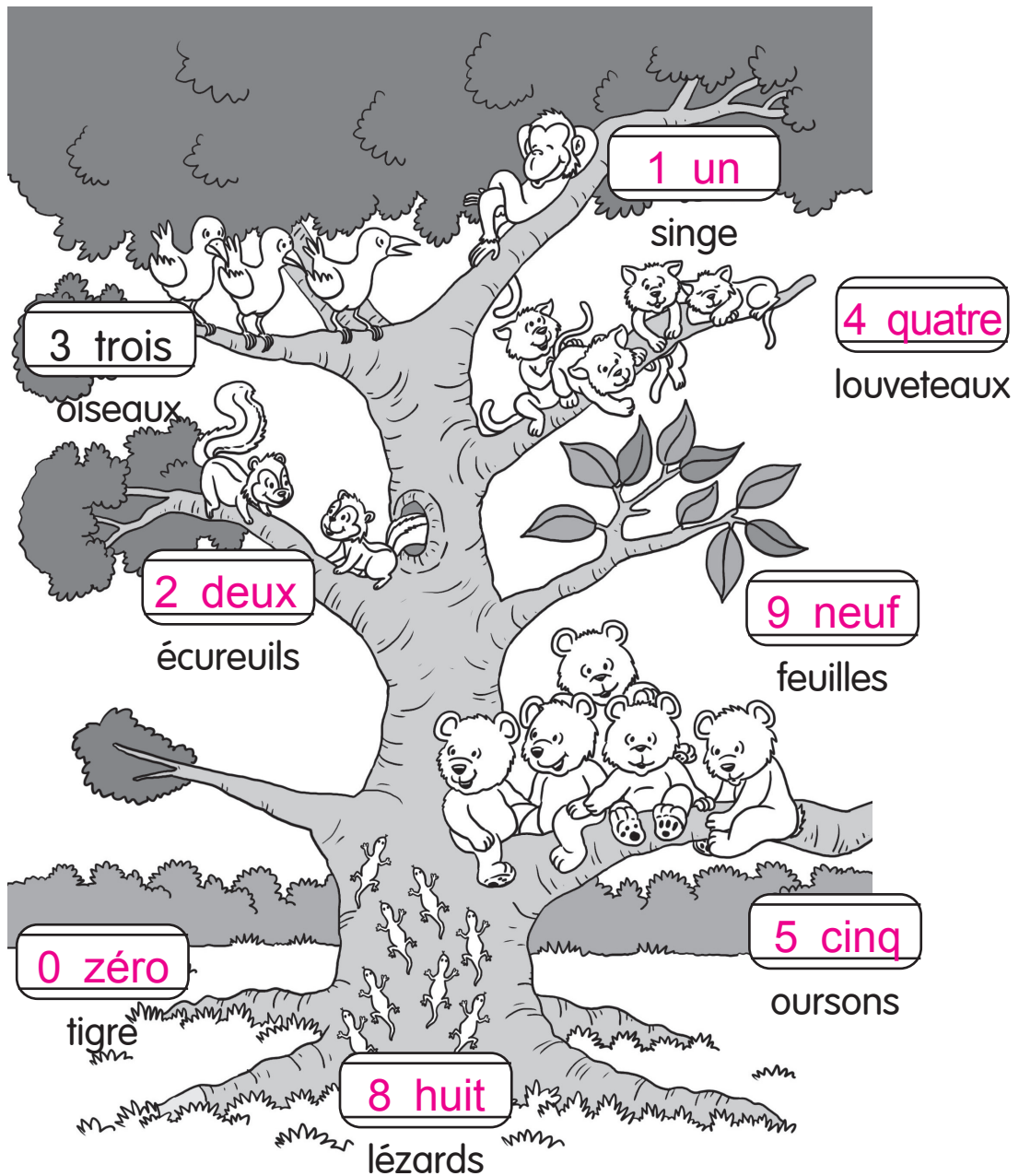
Les nombres jusqu'à 10

Exercices 1 Compter jusqu'à 10

Compte les éléments.

Écris les nombres en chiffres et en lettres.

1.


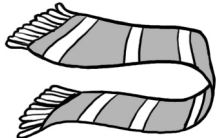





Nom : _____

Date : _____

Compte les objets sur le bonhomme de neige.
Encerle la bonne réponse.

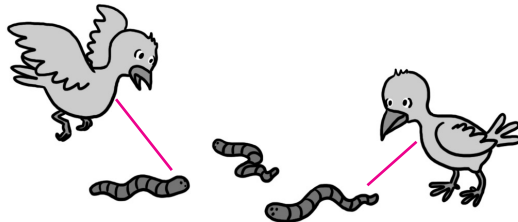




2.		deux trois quatre cinq zéro
3.		zéro un deux trois quatre
4.		six sept huit neuf dix
5.		un deux trois quatre cinq
6.		neuf un six huit trois



Exercices 2 Comparer des nombres

Relie les éléments à l'aide de la correspondance un à un, puis encercle la bonne réponse à chaque question.

1.




Y a-t-il moins de  que d'  ? Oui Non


Y a-t-il plus de  que d'  ? Oui Non



Le nombre de  est-il le même que le nombre d'  ?
Oui Non

2.



Y a-t-il plus d'  que de  ? Oui Non

Y a-t-il moins d'  que de  ? Oui Non

Le nombre d'  est-il le même que le nombre
de  ? Oui Non



Nom : _____

Date : _____

Compte les éléments.

Encerle les 2 ensembles qui représentent le même nombre.

3.




Compte les fleurs.

Encerle l'ensemble qui contient le plus de fleurs.

Complète l'énoncé.

4.





6 est plus grand que 5.

Compte les animaux.

Encerle l'ensemble qui contient le moins d'animaux.

Complète l'énoncé.

5.



7 est plus petit que 9.

Exercices 3

Compter à partir d'un nombre, à rebours ou non

Quel nombre vient ensuite?

Écris-le.

1.



10

2.




0

Quel nombre est 1 de plus?

Écris-le.

3.



8

Quel nombre est 1 de moins?

Écris-le.

4.




3

Nom : _____


Date : _____

Écris les nombres manquants.

5.



6.



Complète les énoncés.

7. 1 de plus que 9 est 10.

8. 2 de plus que 5 est 7.

9. 1 de moins que 7 est 6.

10. 3 de moins que 10 est 7.

11. 6 est 4 de moins que 10.

12. 8 est 3 de plus que 5.