

Les nombres jusqu'à 200

Exercices 1 Compter jusqu'à 200

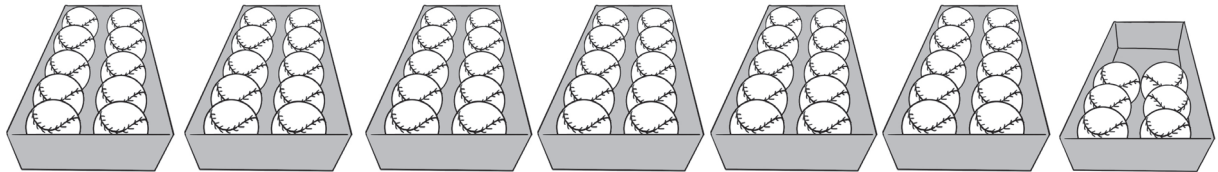
Compte et complète l'énoncé.

1.



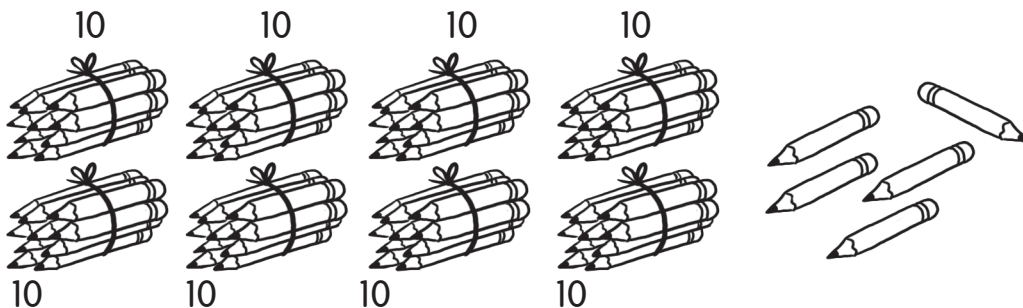
10, 20, 30, 40, 50, 51, 52

2.



10, 20, 30, 40, 50, 60, 61, 62, 63,
64, 65, 66

3.

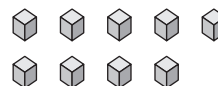
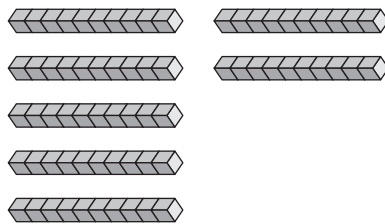
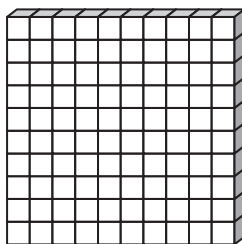


10, 20, 30, 40, 50, 60, 70, 80,
81, 82, 83, 84, 85

Nom: _____

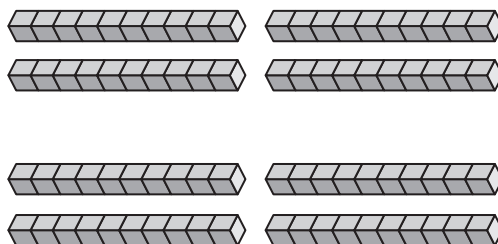

Date: _____

4.



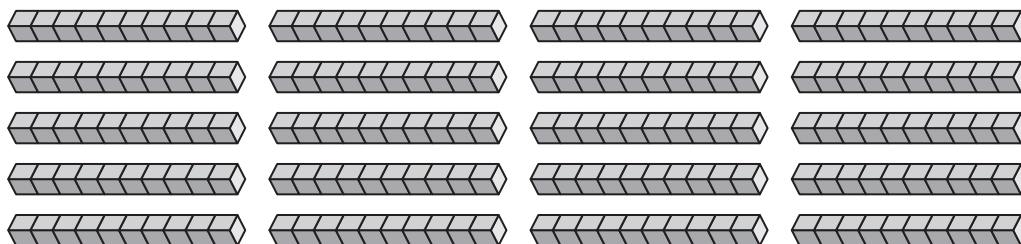
100, 110, 120, 130, 140, 150, 160, 170, 171,
172, 173, 174, 175, 176, 177, 178,
179

5.



120, 140, 160, 180, 181, 182, 183, 184

6.



50, 100, 150, 200

Nom : _____

Date : _____

Écris le nombre.

7. soixante-huit 68

8. soixante-dix 70

9. quatre-vingt-seize 96

10. cent un 101

11. cent soixante-seize 176

Écris le nombre en mots.

12. 80 quatre-vingts

13. 95 quatre-vingt-quinze

14. 100 cent

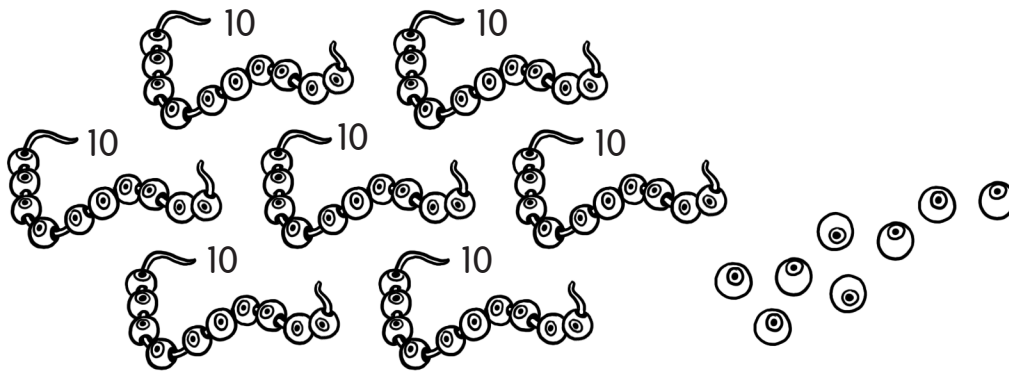
15. 152 cent cinquante-deux

16. 199 cent quatre-vingt-dix-neuf

Exercices 2 La valeur de position


Écris le nombre manquant.

1.



70 et 8 font 78.

2.



50 et 6 font 56.

3. 60 et 4 font 64.

4. 5 et 90 font 95

5. 50 et 3 font 53.

6. 70 et 8 font 78.

7. $80 + 12 =$ 92

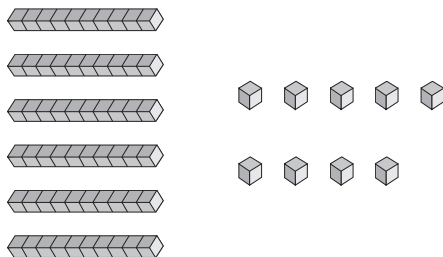
8. 8 + 80 = 88

Nom : _____

Date : _____

Écris les nombres manquants.

9.

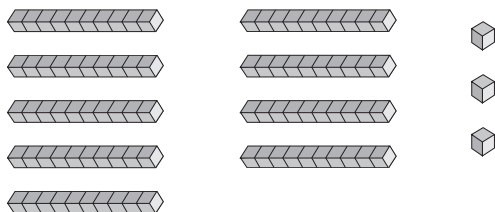


Dizaines	Unités
6	9

69 = 6 dizaines et 9 unités

60 + 9 = 69

10.

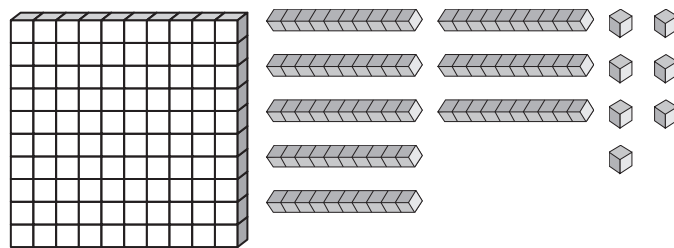


Dizaines	Unités
9	3

93 = 9 dizaines et 3 unités

90 + 3 = 93

11.



Centaines	Dizaines	Unités
1	8	7

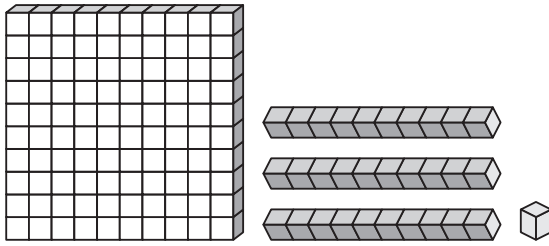
187 = 1 centaine, 8 dizaines et 7 unités

100 + 80 + 7 = 187

Nom : _____

Date : _____

12.



Centaines	Dizaines	Unités
1	3	1

131 = 1 centaine, 3 dizaines et 1 unité

100 + 30 + 1 = 131

13.



Dizaines	Unités
8	6

14.



Dizaines	Unités
6	4

15.



Centaines	Dizaines	Unités
1	0	7

Encerle la dizaine la plus près.

16.

64 60 70

17.

85 80 90

Écris la dizaine la plus près.

18.

18 20

19.

33 30

Exercices 3 La comparaison, l'ordre et les suites

Encerle le nombre le plus grand.

1. 72 ou **87** 2. **92** ou 69

3. 67 ou **76** 4. **158** ou 130

5. **200** ou 112 6. 102 ou **199**

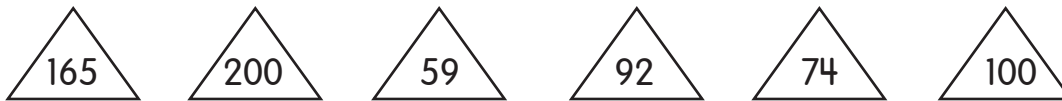
Colorie le nombre le plus petit.

7.  100 ou  148 8.  167 ou  185

9.  70 ou  97 10.  55 ou  53

11.  80 ou  88 12.  182 ou  170

Complète les énoncés avec les nombres suivants.



13. 59, 74 et 92 sont plus petits que 100.


14. 74, 92, 100, 165 et 200 sont plus grands que 59.

15. 165 est plus grand que 100, mais plus petit que 200.

16. 74 est plus petit que 92, 100, 165 et 200, mais plus grand que 59.


Ordonne les nombres.

17.



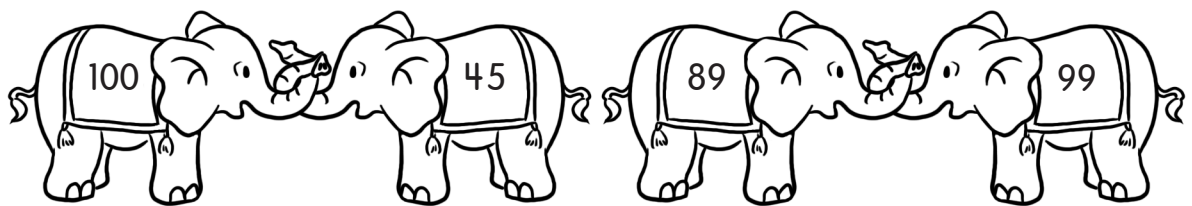
92 72 49
le plus grand le plus petit

18.



103 168 182 200
le plus petit le plus grand

19.



100 99 89 45
le plus grand le plus petit

Nom : _____

Date : _____

Complète les énoncés avec $>$, $<$ ou $=$.

20. $51 \boxed{<} 82$

21. $175 \boxed{=} 1 \text{ centaine, } 7 \text{ dizaines et } 5 \text{ unités}$

22. $62 \boxed{>} 29$

23. $186 \boxed{<} 199$

24. $90 \boxed{=} 9 \text{ dizaines}$

25. $84 \boxed{>} 53$

26. $73 \boxed{>} 37$

27. $81 \boxed{>} 28$

28. $104 \boxed{<} 109$

29. $160 \boxed{=} 150 + 10$

Complète les énoncés avec $>$, $<$ ou $=$.

30. $1 \text{ centaine, } 5 \text{ dizaines et } 6 \text{ unités} \boxed{>} 1 \text{ centaine et } 9 \text{ unités}$

31. $7 \text{ dizaines, } 9 \text{ unités} \boxed{<} 9 \text{ dizaines et } 7 \text{ unités}$

32. $6 \text{ dizaines et } 15 \text{ unités} \boxed{=} 7 \text{ dizaines et } 5 \text{ unités}$

33. $2 \text{ centaines} \boxed{=} 1 \text{ centaine et } 10 \text{ dizaines}$

34. $9 \text{ dizaines et } 6 \text{ unités} \boxed{<} 10 \text{ dizaines}$

35. $15 \text{ dizaines} \boxed{=} 1 \text{ centaine et } 5 \text{ dizaines}$

Nom : _____

Date : _____

Quel est le nombre manquant?

36. 2 de plus que 54 donne 56.

37. 68 vaut 2 de plus que 66.

38. 2 de moins que 78 donne 76.

39. 72 vaut 2 de moins que 74.

40. 30 de plus que 140 donne 170.

41. 10 de plus que 85 donne 95.

42. 5 de moins que 65 donne 60.

43. 200 vaut 40 de plus que 160.

44. 120 vaut 20 de moins que 140.

45. 70 vaut 5 de moins que 75.

Complète chaque suite numérique.

46. 50, 51, 52, 53, 54, 55, 56, 57, 58

47. 43, 42, 41, 40, 39, 38, 37

48. 84, 86, 88, 90, 92, 94

49. 100, 90, 80, 70, 60, 50

50. 50, 55, 60, 65, 70, 75, 80, 85

51. 25, 50, 75, 100, 125, 150, 175