



Chapitre 1, leçon 1

Problème de la leçon


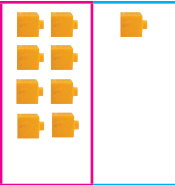

Compte les groupes de 10.
Puis, compte les unités qui restent.
Combien de  y a-t-il ?



Chapitre 1, leçon 2

Problème de la leçon

Une fermière a les animaux suivants dans sa ferme.

| Vaches | Moutons | Poules | | | | | | | | | | | | |
|--|---|---|--|--|--|----------|--------|--|--|--|----------|--------|--|--|
|  |  |  | | | | | | | | | | | | |
| <table border="1"><tr><th>Dizaines</th><th>Unités</th></tr><tr><td></td><td></td></tr></table> | Dizaines | Unités | | | <table border="1"><tr><th>Dizaines</th><th>Unités</th></tr><tr><td></td><td></td></tr></table> | Dizaines | Unités | | | <table border="1"><tr><th>Dizaines</th><th>Unités</th></tr><tr><td></td><td></td></tr></table> | Dizaines | Unités | | |
| Dizaines | Unités | | | | | | | | | | | | | |
| | | | | | | | | | | | | | | |
| Dizaines | Unités | | | | | | | | | | | | | |
| | | | | | | | | | | | | | | |
| Dizaines | Unités | | | | | | | | | | | | | |
| | | | | | | | | | | | | | | |

Combien d'animaux de chaque sorte a-t-elle ?

Chapitre 1, leçon 3

Problème de la leçon

Jacob a 98 timbres.

Maria a 59 timbres.

Louis a 71 timbres.

1. Qui a le moins de timbres ?
2. Qui a le plus de timbres ?
3. Ordonne les nombres de timbres du plus grand au plus petit.