




# Chapitre 1 Leçon 1

## Problème de la leçon

Écris le nombre suivant à la forme usuelle et à la forme écrite.

Centaines de mille	Dizaines de mille	Unités de mille	Centaines	Dizaines	Unités
					

# Chapitre 1 Leçon 2

## Problème de la leçon

Marie pense à un nombre à 6 chiffres que Jules doit deviner. Voici les indices qu'elle lui donne :

Il y a un 2 à la position des unités de mille.

Le chiffre à la position des dizaines correspond à 4 fois celui à la position des unités de mille.

Le chiffre à la position des centaines est 1 de moins que celui à la position des centaines de mille.

Le chiffre à la position des dizaines de mille est 4 de plus que celui à la position des unités de mille.

Le chiffre à la position des centaines de mille est 1 de moins que le chiffre à la position des dizaines de mille.

Le chiffre à la position des unités correspond à la somme des chiffres à la position des centaines de mille et des unités de mille.

Peux-tu trouver le nombre de Marie ?

# Chapitre 1 Leçon 3

## Problème de la leçon

Compare 100 001 et 99 002. Quel nombre est le plus grand?