








Nom : _____

Arithmétique

1 Écris le nombre représenté. Utilise la légende.

Légende

 = 100 000	 = 10 000	 = 1 000
 = 100	 = 10	 = 1



Nombre représenté :

2 Écris le nom de la position et la valeur du chiffre 4 dans chaque nombre.

Nombre	Position	Valeur
a) 54 671	_____	_____
b) 89 543	_____	_____
c) 452 813	_____	_____
d) 846 990	_____	_____
e) 231 674	_____	_____